


# 1. DÖNEM

## 5'LI DENEME



**Copyright ©**  
Evrensel İletişim Yayın Dağıtım  
San. Tic. Ltd. Şti.

Bu kitabın her hakkı  
**EVRENSEL İLETİŞİM LTD. ŞTİ.'e** aittir.

Hangi amaçla olursa olsun, bu kitabın tamamının ya da bir kısmının, kitabı yayınlayan yayınevinin önceden izni olmaksızın elektronik, mekanik, fotokopi ya da herhangi bir kayıt sistemi ile çoğaltılması, yayınlanması ve depolanması yasaktır.

**EVRENSEL**  
**İLETİŞİM**  
**YAYINLARI**

Zübeyde Hanım Mah. 655. Cad. No: 15/A  
Altındağ / ANKARA

**Tel:** (0312) 384 65 00

**Faks:** (0312) 384 61 00

**email:** evrensel@evrenseliletisim.com.tr

**www.evrenseliletisim.com.tr**



Genel Yayın Yönetmeni  
**Engin KARAPINAR**



Dizgi - Tasarım  
**Sıla TAŞÇI**



Basım Yeri  
**Korza Basım**



978 - 605 - 7958 - 85 - 3

2020

# 1. DÖNEM 5'Lİ DENEME



# DENEME

1. Bu testte 20 soru vardır.

2. Cevaplarınızı, cevap kâğıdının Türkçe Testi için ayrılan kısmına işaretleyiniz.

1. Antoine de Saint-Exupéry tarafından yazılan Küçük Prens, yayımlandığı günden bu yana milyonlarca insanın beğenisini kazanmaya devam ediyor. Gezegenindeki çiçeğiyle anlaşamayan, bu yüzden mekândan uzaklaşmaya karar veren, yolculuğu sırasında Dünya'ya da uğrayan Küçük Prens; Sahra Çölü'nde bir pilotla karşılaşır. Olan biteni, bu pilot anlatır bize. Peki kimdir Küçük Prens, niçin sürekli sorular sorar? Saint Exupéry aslında bir pilottur. Küçük Prens'te yazılanlar onun kendi yaşamına ayna tutan iz düşümlerdir.



**Aşağıdaki cümlelerden hangisi bu metindeki altı çizili sözle anlatılmak isteneni yansıtan bir özelliğe sahiptir?**

- A) Hüseyin Rahmi Gürpınar babasını kaybedince annesi, anneannesi ve teyzesi ile yaşadığından kadın kahramanları eserlerinde çok kullanır.
- B) Sait Faik, yazma hırsına sahip yazarlarımızdandır ve yazma nedenini açıklarken "Yazmasam deli olacaktım!" der.
- C) Don Kişot, bir hayale inanır ve bu hayalin peşinden gider, yel değirmenleriyle savaşmak en büyük işidir. Onları düşman olarak görür.
- D) Jules Verne romanlarından "Dünya'nın Merkezine Yolculuk"ta bir grup kâşifin ve bilim insanının İzlanda'daki bir volkana yaptıkları yolculuktan bahseder.

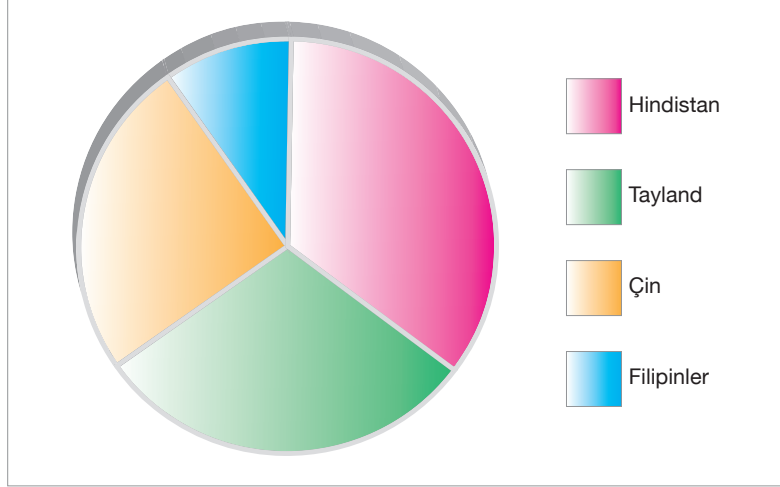
2. Beren Hanım, konuşmasında bazı yabancı kelimelerin Türkçe karşılıklarını kullanmıştır.

"İnsanoğlunun, yaratılıştan spora eğilimi vardır. Bu eğilim onu çeşitli arayışlara sokar. Medeni dünyada insan; işe giden, sosyal ve sportif faaliyetlere zaman ayıran, kitap okuyan hâliyle karşımıza çıkar. Bu duruş ona gelenekleşmiş tavırdan çıkışı sağlasa da düzeltilmesi gereken yönleri de yok değildir. Örneğin kaçımız bir spor merkezine üyeyiz veya doğada spora zaman ayırıyoruz? Birçoğunuzun bu soruyu olumsuz yanıtladığını duyar gibiyim. Oysa spor yapan medeni insan zihinsel olarak da diğer insanlara göre daha iyi bir yerde durur. Fiziksel hareket zihin hareketlerini beraberinde getirir. Akıllı ve kavrayışı daha iyi çalışan birey hayatta da ulaşmak istediklerine daha hızlı biçimde ulaşabilir. Bu yüzden hepimiz spor yapmalı, hayatımıza sporu katmalıyız. Haydi doğaya!"

**Beren Hanım, seçeneklerdeki görsellerde yer alan kelimelerden hangisinin Türkçesini konuşmasında kullanmamıştır?**



3. Uzmanlar ülkelere göre haftalık kitap okuma saatleri üzerinde bir araştırma yapmışlar ve aşağıda yer alan grafikteki sonuca ulaşmışlardır. Buna göre haftalık kitap okuma saati en yüksek ülke Hindistan, haftalık okuma saati en düşük ülke Filipinler olmuştur.

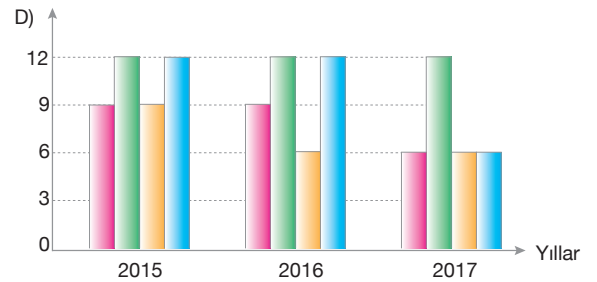
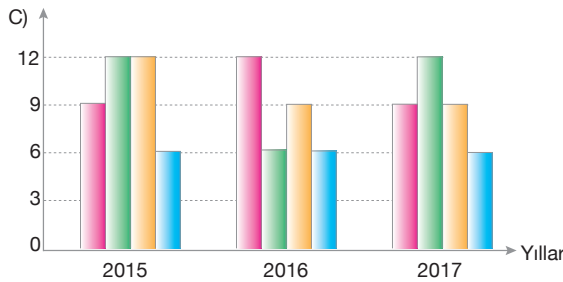
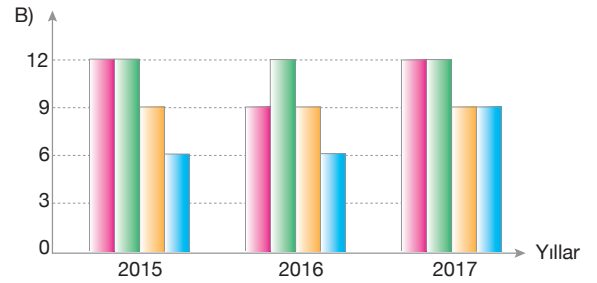
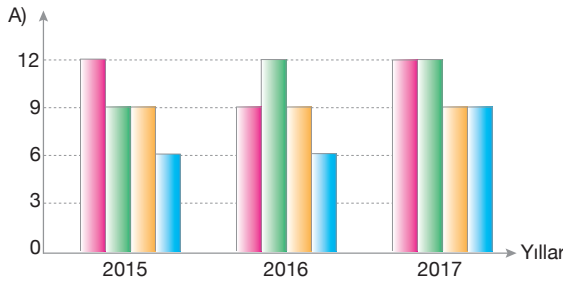


Sonraki zaman dilimlerinde 2015, 2016 ve 2017 yıllarında da uzmanlar araştırma yapmışlardır.

Buna göre;

- 2015'te en yüksek okuma saati yine Hindistan'a aittir. Tayland ve Çin ise aynı düzeyde bir okuma saatine sahiptir. En düşük okuma saati ise Filipinlere aittir.
- 2016'da en yüksek okuma saati Tayland'a aittir. Hindistan ve Çin aynı düzeydedir. En düşük okuma saati ise Filipinlere aittir.
- 2017'de en yüksek okuma saati aynı oranla Hindistan ve Tayland'a aittir. İkinci sırada ise aynı okuma saatine sahip Çin ve Filipinler yer almaktadır.

**Uzmanların 2015, 2016 ve 2017 yıllarına ait araştırma sonuçlarını, aşağıdaki grafiklerden hangisi doğru yansıtmaktadır?**





## LGS / TÜRKÇE

4. Bir grup öğrenci, Kastamonu gezisi sırasında çekme helva imalathanesini ziyaret ederler. Burada çekme helvanın yapılaş aşamalarını dinlerler.



Helva yapılırken bakır kazanlarda su ve toz şeker 150-160 derecede kaynatılır. Kıvama gelen şeker, mermer tezgâhlarda soğutulur. Soğuyan şeker kayışlama makinesine alınarak beyaz renge döndürülür. Bu karışıma, yağ ve bir miktar un eklenerek 4-5 saat pişirilir. Pişen hamur bir gün dinlendirildikten sonra belli bir sıcaklığa kadar yeniden ısıtılır. Daha sonra yuvarlak bir tepsinin ortasına bu hamurdan belirli bir miktar çıkarılır. Karşılıklı olarak 4-5 kişi bu hamuru çeker. Hamur onlarca kez katlanır. Mermer tezgâhlarda soğutulan helva makinede ovalandıktan sonra bir ton basınçlı prese verilir. Burada sıkıştırılıp küp şekline geldikten sonra saç telinden ince çekme helvası oluşmuş olur. Son olarak kutulara yerleştirilir.

Öğrenciler bu anlatımın ardından bazı sorular sorarlar:

- I. Su ve toz şeker kaç derecelik bir ısıda kaynatılır?
- II. Yağ ve unun eklendiği şeker karışımı kaç saat pişirilir?
- III. Pres makinesine verilen hamur ne kadar süre bu makinede kalır?

**Öğrencilerin sorularından hangisi ya da hangilerinin cevabı paragrafta yer almamaktadır?**

- A) Yalnız I                      B) I ve II                      C) Yalnız III                      D) II ve III

5.



Birtakım ilerlemeler yaşıyoruz hayatımızda ancak yaşantılarımız değiştikçe bu, beraberinde birtakım sorunları da getiriyor. Örneğin giderek büyüyen sanayimizin ortaya çıkardığı olumsuzluklarla karşı karşıyayız. Havayı kirleten fabrikalarla ilgili bir çözüm üretebilmiş değiliz. Yediğimiz yiyeceklerin plastik poşetleri, plastik şişeler de sorunlarımızdan bazıları. Yakın bir zamanda çöplerden denizde yüzecek alan bulamayacağız. Son dönemlerde çevre eğitimi, çevresel değerlerin ölçümü ve izlenmesi, atıkların azaltılması ve çevresel yönetim stratejilerinin belirlenmesi konularına dair daha kapsamlı yaklaşımlara ihtiyaç duyulmuş ve bunun sonucu olarak çevre koruma araştırmaları yapılır hâle gelmiştir. Bu araştırma ve çalışmalara çevreyi daha az kirleterek katkıda bulunabiliriz.

**Paragrafta, yukarıdaki görsellerden hangisini veya hangilerini açıklayan bir ayrıntıya yer verilmemiştir?**

- A) Yalnız I                      B) II ve III                      C) III ve IV                      D) Yalnız IV

6. Aşağıda bazı atasözleri, açıklamaları ve hangi konuyla ilgili oldukları karışık verilmiştir.

I.	Bugün ayağımıza gelmiş olan kazançla yarın gelme ihtimali bulunan daha büyük bir kazanç arasında bir seçim yapmak gerektiğinde, bugünkünü tercih etmek doğrudur. Çünkü bu fırsat önümüze gelmiştir. Diğeri ise türlü engellerle gerçekleşmeyebilir.
II.	Kolayca saklanamayacak kadar büyük bir suç işleyen kimse, cezadan ve sorumluluktan kurtulma yollarını ayrıntılı biçimde düşünür ve ortaya çıkmasını önleyecek tedbirleri önceden almaya çalışır.
III.	Bir işin yapılmasını tecrübesiz, beceriksiz, ustalığı olmayan kişilere bırakanlar, meydana gelebilecek zararlara katlanmaya da hazır olmalıdır. Zarar gelmeden önlemini almış olmalıdır.
IV.	Her işin kendine özgü araç ve gereci vardır. O işten verimli bir sonuç alınmak isteniyorsa iş yapılırken uygun olan araç ve gereç kullanılmalıdır. Uygun olmayan, kötü nitelikteki araç ve gereçlerle iyi bir şey, kaliteli bir ürün alınamaz.
A.	Darı unundan baklava, incir ağacından oklava olmaz.
B.	Başını acemi berbere teslim eden, pamuğunu cebinde taşısın.
C.	Bugünkü tavuk yarınki kazdan iyidir.
D.	Minareyi çalan kılıfını hazırlar.
a.	tedbir ve önlem
b.	fırsat
c.	araç-gereç

Atasözleri, açıklamalar ve hangi konuyla ilgili oldukları eşleştirildiğinde doğru sonuç seçeneklerden hangisi olur?

A)

I	II	III	IV
C	D	B	A
b	a	a	c

B)

I	II	III	IV
D	C	D	A
a	c	b	a

C)

I	II	III	IV
C	D	B	A
b	a	b	c

D)

I	II	III	IV
C	B	A	D
c	a	a	b

7 ve 8. soruları sarı zemindeki metne göre cevaplayınız.

Özne ve yüklem cümlelerin temel öğeleridir. Yüklem, cümlede yargı bildiren öğedir. Özne, yüklem bildirdiği iş, oluş veya durumu yapan; cümledeki olanı karşılayan öğedir. Nesne cümlede öznenin yaptığı işten etkilenen öğedir. Nesne "Ne, neyi, kimî?" soruları yükleme sorularak bulunur. Yer tamlayıcısı yüklemi yer-yön bakımından tamamlayan, yaklaşma, uzaklaşma bildiren öğedir. Zarf tümleci yüklemi durum, zaman, miktar ve sebep gibi yönlerden tamamlayan öğedir.



(I) Balon turizmi için en çok tercih edilen yerlerden biri Kapadokya'dır. (II) Binlerce turist bu bölgeye günün doğuşunu ve Peribacalarını görmeye gelir. (III) Dünyanın birçok yerinde balon turu yapılsa da hiçbir, bizi Kapadokya'daki tur kadar etkileyemez. (IV) Sabahın erken saatlerinde başlayan turun süresi, mevsime ve hava koşullarına göre pek çok zaman bölgede değişiklik gösterir.

7. Yukarıdaki paragrafta bazı cümle öğelerinin altı çizilmiştir. Metinde altı çizili bölümlerde bir ögenin örneği yoktur.

**Örneği olmayan öge, aşağıdaki cümlelerin hangisinde bulunmaktadır?**

- A) Küçük hesaplar peşinde koşanlar, sahte sahnelerde yerlerini alırlar ama büyük insan olamazlar.
- B) Aç ve susuz kalmış kedi, bizim şefkatli insanlarla dolu mahallemizde gideceği evi heyecanla arıyordu.
- C) Yardıma ihtiyacı olan minik kuşun arkasından koştum ancak onu sokağın ortasında kaçırdım.
- D) İstanbul Maratonu heyecanı, bir amaç uğruna koşan insanların çabalarına Boğaz'da sahne oldu.

8. Cümleler yüklem türüne göre çeşitlere ayrılır.

- a. Yüklemi isim veya isim soylu olan cümlelere isim cümlesi denir. İsim cümlelerinde isim soylu bir sözcük (edat, zamir, sıfat, isim fiil..) ek fiil olarak yüklem olur.
- b. Yüklemi fiil olan cümlelere fiil cümlesi denir. Fiiller hareket iş, oluş bildirir. Kip ve şahıs ekleri olarak yüklem durumunda kullanılır.

**Metindeki numaralı cümleler, yüklem türüne göre değerlendirilirse nasıl bir sonuç ortaya çıkar?**

A)

I	a
II	b
III	b
IV	b

B)

I	b
II	b
III	b
IV	a

C)

I	a
II	a
III	b
IV	b

D)

I	a
II	b
III	a
IV	b

9. Bir grup arkadaş şiir okuma günü düzenler ve herkes bildiği mısraları okur.



Sena

Bir ah çeksem dağı taşı eritir,  
Gözüm yaşı değirmeni yürütür.  
**Karacaoğlan**



Metin

Eğil de kulak ver, bu sessiz yığın  
Bir vatan kalbinin attığı yerdir.  
**Necmettin Halil Onan**



İrem

Şiir bir cennet bahçesi  
Girmeyene anlatılmaz.  
**Abdurrahim Karakoç**



Çağla

El çek tabip el çek yaram üstünden  
Sen benim derdime deva bilmezsin.  
**Erzurumlu Emrah**

Okunan şiirlerdeki söz sanatları değerlendirildiğinde “kişiler ve kullandıkları söz sanatları” eşleştirmelerinden hangisi doğrudur?

A)	Sena: Abartma	B)	Sena: Benzetme
	Metin: Tezat		Metin: Kişileştirme
	İrem: Benzetme		İrem: Abartma
	Çağla: Kişileştirme		Çağla: Tezat
		C)	Sena: Abartma
			Metin: Kişileştirme
			İrem: Benzetme
			Çağla: Tezat
		D)	Sena: Tezat
			Metin: Kişileştirme
			İrem: Benzetme
			Çağla: Abartma

10.



Bir grup araştırmacı uzmanlardan yardım almak ister. Bu sebeple uzmanlara bazı sorular sorarlar:

- I. Dünya atmosferine yılda ortalama kaç gök taşı girer?
- II. Yeryüzüne düşen gök taşı sayısı ortalama ne kadardır?
- III. Gök taşlarının bir kısmı niçin eriyerek toz parçacıkları hâlinde yere iner?
- IV. Yeryüzüne inen gök taşlarının hızı ve büyüklüğü arasında nasıl bir ilişki vardır?

Uzmanlar soruları şu şekilde cevaplamıştır:

Uzaydan Dünya yüzeyine düşen maddelerin genel adına gök taşı denir. Dünya atmosferine ortalama yılda birkaç bin gök taşı girer. Fakat bunların, beş yüz kadarı buharlaşmadan yere gök taşı olarak düşer. Gök taşları, Dünya atmosferine saniyede 11-72 km arasında değişen hızla girerler. Sürtünmeden meydana gelen ısı sebebiyle büyük bir kısmı eriyerek toz parçacıkları hâlinde yeryüzüne inebilir.

Bu parçada uzmanların cevaplamadığı soru aşağıdaki seçeneklerin hangisinde doğru verilmiştir?

- A) Yalnız I                      B) II ve III                      C) III ve IV                      D) Yalnız IV

## LGS / TÜRKÇE

11. A. Başka bir kimseden veya yazıdan olduğu gibi aktarılan sözler tırnak içine alınır.  
B. Cümle içerisinde eserlerin ve yazıların adları ile bölüm başlıkları tırnak içine alınır.  
C. Özel olarak vurgulanmak istenen sözler tırnak içine alınır.

Aşağıda bazı cümleler verilmiştir.

- I. Türkçe dersinde Lara adlı arkadaşımız, okuduğu "Yaban"ı anlattı.  
II. Kongre merkezinde açılan kitap fuarında farklı yazarların imza günü vardı. Yazar, eserinin "Şehirler" bölümünü anlattı.  
III. Son zamanların "en büyük dehası" da gösteriye katılacağını duyurdu.  
IV. Atatürk "Sanatsız kalan bir milletin hayat damarlarından biri kopmuş sayılır." der.

**Açıklamalar ve cümleler eşleştirildiğinde doğru sonuç seçeneklerinden hangisidir?**

A)

A	→	III
B	→	I - II
C	→	IV

B)

A	→	IV
B	→	I - II
C	→	III

C)

A	→	IV
B	→	I - III
C	→	II

D)

A	→	III
B	→	II - IV
C	→	I

12. Canlıların solunumuna yarayan, renksiz, kokusuz, akışkan gazı hava denir. Hava, canlıların yaşaması için hayati öneme sahiptir. Yerküreyi saran gaz kütesine atmosfer adı verilmektedir. Atmosferdeki hava tabakasının kalınlığı 150 km'dir. Bunun sadece 5 km'si canlıların yaşamasına elverişlidir. Yeryüzünden uzaklaştıkça hava tabakasının yoğunluğu azalır.

Metindeki altı çizili kelimelerle ilgili anlam ilişkileri karışık olarak verilmiştir.

- "Gökyüzü" kelimesinin zıt anlamlısı
- "Yer" kelimesinin eş anlamlısı
- "Diri" kelimesinin eş anlamlısı
- "İncelik" kelimesinin zıt anlamlısı

**Yukarıdaki metinde anlam özelliği yanlış verilen kelime hangisidir?**

- A) Yeryüzü                      B) Yoğunluk                      C) Canlı                      D) Yer

13.

İhtiyaç sahiplerine yardım etmek üzere sepet örüyordu.	Bu oyuncuyu gördüğüm için çok mutluyum.
İlaçlarını içmediğinden hastalığı geçmedi.	Konuşmak rahatlatığı için saatlerce telefonda konuştu.

**Yukarıdaki tabloda neden-sonuç ifade etmeyen cümle çıkarıldığında tablonun yeni görüntüsü aşağıdakilerden hangisi olur?**

A)


B)


C)


D)


14.

### TOPLUMDA AİLE, EĞİTİMDE OKUL



Her Bir Okulda  
Okul Gelişim Modeli



C



A



Okullar ve bölgeler arası  
imkân farklarının kapanması



B



Coğrafi Bilgi Sistemi ile tüm  
okullar tek çatı altında

- I. Her okula tasarım/beceri atölyesi
- II. Okullara gelişim bütçesi
- III. Yetki ve sorumlulukları artırılmış okul yöneticileri

Yukarıdaki bilgilendirme grafiğinde bazı simgelerin karşısındaki açıklama bölümleri boş bırakılmıştır.

**Bu simgeler ve numaralanmış cümleler eşleştirildiğinde doğru sıralama aşağıdakilerden hangisi olur?**

- A) A → III, B → I, C → II  
C) A → II, B → I, C → III

- B) A → III, B → II, C → I  
D) A → II, B → III, C → I

15. Yazarın ortaya koyduğu ürünler daha önce başkaları tarafından ortaya konmamış ürünler olmalıdır. Ancak bu şekilde sanatçı olunabilir. Okuyucu olarak geçmişte okuduğunuz bir yazıyı yeniden okumak ister misiniz? Bu soruya hepimizin “Hayır!” dediğini duyar gibiyim. Yazdıklarına kendi mührünü vurabilen kimseler yayın hayatında tutunabilirler.

**Yukarıdaki paragrafta altı çizili bölümün ifade ettiği anlam aşağıdakilerin hangisinde verilmiştir?**

- A) Aynı konunun tekrar edilmesi okuyucuyu yorar. Bu yüzden sanatçı, yeni konuları kullanmalı, eserlerinde tekrara gitmemelidir.
- B) Sanatçı olmak isteyen bir yazar geçmişte de beğeni kazanmış ürünler gibi bir sanat ortaya koymalıdır.
- C) Özgün bir tarz oluşturmak isteyen sanatçı üslubunu iyi ayarlamalıdır. Ondan beklenen, kendi izini taşıyan eserler vermesidir.
- D) Geçmişte beğeni kazanmamış eserler unutulmaya, tarih sahnesinden silinmeye mahkûmdur.



16 ve 17. soruları metne göre cevaplayınız.

(I) Kâtip Çelebi, Türk bilim dünyasının pozitif ve hür düşünceyi temsil eden simalarındandır. (II) Tarih, coğrafya ve kaynakça alanlarında eserler vermiş bir Osmanlı bilginidir. (III) Eserlerinin değeri ve önemi dolayısıyla gerek Osmanlı Devleti'nde gerekse Batı'da büyük ilgi uyandırmıştır. (IV) Batı ve Doğu bilimlerini karşılaştırıp birtakım sonuçlara ulaşan ilk Türk bilginidir. (V) 1645'te Girit Seferi münasebetiyle haritaların nasıl yapıldığını inceledi ve bu konuyla ilgili yazılan eserlerde çizilen haritaları gördü. (VI) Zengin bir kitaplığa sahip olan Kâtip Çelebi, 23 eser yazmıştır.

16. Bu metinde aşağıdakilerden hangisinin anlamını karşılayan bir söz kullanılmamıştır?

- A) Yüz B) Kıymet C) Netice D) Yerli

17. Kişiden kişiye değişen yargılara öznel cümle denir. Örneğin "Sonbaharda açan çiçekler herkesin hislerine hitap eder." cümlesi kişiden kişiye değişen bir yargı içerir.

Kişiden kişiye değişmeyen yargılara nesnel cümle denir. Örneğin "Sonbaharda sararan yapraklar etrafı kaplamıştı." cümlesinde kişiden kişiye değişmeyen bir durum anlatılır.

Verilen açıklamalardan hareketle Kâtip Çelebi ile ilgili metinde öznel duygular içeren cümleler aşağıdaki seçeneklerin hangisinde doğru verilmiştir?

- A) I, II ve III B) III, IV ve V C) III ve VI D) IV, V ve VI

18. Bazen umulmayan kimselerin hiç umulmadık başarılar elde ettiğini görürsünüz. Bunda azim, kararlılık ve çalışmanın payını unutmamak gerekir.

**Bu cümlede anlatılan durumu,**

- I. Yaşlılarına göre çok daha geç yaşta konuşan Einstein'ın ailesi onun bu durumundan şüpheye düşmüş hatta geri zekâli olabileceğinden korkmuştur. Ailenin şüphelerinin yersiz olduğu anlaşılmalı, Einstein çalışmalarıyla geriden ziyade, zekâsının ne kadar ileri seviyede olduğunu bütün dünyaya göstermiştir.
- II. Buhar motorunu icat eden James Watt, 17 yaşında annesini kaybetti ve babasının işleri zamanla kötüye gitmeye başladı. Bu yüzden üniversiteye gitme planlarından vazgeçti. Daha sonra ölçüm aletleri yapımını öğrenmek için Londra'daki akrabasının yanına taşındı. Burada çok başarılı oldu. Yaşlılarının 2 yılda öğrendiği şeyleri 2 ay içinde öğrenebiliyordu.
- III. İlkokul yıllarında Edison, algılamasının yavaş olması nedeni ile okuyamayacağına karar verilerek okuldan uzaklaştırıldı. Bu dönemde evinin kilerinde kimyasal bir laboratuvar kurdu ve sürekli kimyasal deneyler yaptı. Geçirdiği rahatsızlık sebebiyle duyma yetisini kaybetti. Kimseden yardım almadan pek çok çalışma yaptı. 1879'da elektrik ampulünü icat etti.
- IV. Mimar Sinan hâlen çözülemeyen mimari sırlara sahip büyük mimardı. Pratik bir zekâsı vardı, böylece en büyük kubbeyi dört sütun üzerine yerleştirmeyi başardı. Binaların daha sağlam olmasını sağlayan ve bina temelinin sabitlemek için kullanılan ray sistemini icat etti.

metinlerinden hangileri örneklendirmektedir?

- A) Yalnız I B) Yalnız II C) II ve IV D) I, II ve III

19. Spor turnuvalarına katılmak için 8/A ve 8/B sınıflarından Selin, Mehmet, Zehra, Damla, Fatih adlı kişiler seçilmiştir. Bu kişilerin her biri; futbol, voleybol, basketbol, masa tenisi ve badminton müsabakaları için Kayseri, Afyonkarahisar, Çanakkale, Isparta ve Rize şehirlerinden birine gitmiştir. Bu kişilerin sınıfları, gittikleri şehirler ve katıldıkları müsabakalarla ilgili şunlar bilinmektedir:

- Zehra, Isparta'ya gitmiştir.
- Damla, masa tenisi müsabakasına katılmıştır.
- Futbol, basketbol ve badminton müsabakalarına katılanlar 8/A sınıfındadır.
- 8/B sınıfından Selin, Kayseri'ye gitmiştir.
- Afyon'a giden Fatih, basketbol müsabakasına katılmıştır.

**Bu bilgilere göre kişilerden hangilerinin hem sınıfları, hem müsabakaya katıldıkları spor dalları hem de gittikleri şehir kesin olarak bellidir?**

- A) Damla ve Zehra                      B) Fatih ve Selin                      C) Zehra ve Selin                      D) Damla ve Fatih

20. Araştırmalar, yunusgillerin 10 milyon yıl kadar önce ortaya çıktığını göstermiştir. Yani yunuslar dünyanın en eski hayvan türlerinden biridir. Fakat günümüzde 10 milyon yıl önce ortaya çıkan yunus türlerinin tamamı varlığını sürdürmüyor. Bununla birlikte yeni yunus türleri var. Dünyanın farklı bölgelerinde yaşayan yaklaşık olarak 34 farklı yunus türü vardır ve bu türlerden bazıları Türkiye denizlerinde de yaşamaktadır. Dünyada olduğu gibi ülkemizde de balina olarak adlandırılan ve tanınan bazı memeliler aslında balina değil, yunustur. Ve yunusgiller familyasına üyedir.

Bu metindeki bazı kelimelerin anlamları “#, ▲, ■, ●, ♥” sembelleriyle gösterilmiştir. Bu kelimeleri metinden bularak aşağıdaki bulmacaya yerleştiriniz.

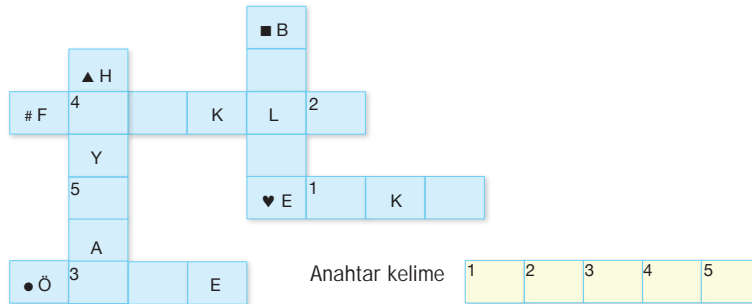
# Aralarında fark bulunan, değişik, ayrımlı.

▲ Duygu ve hareket yeteneği olan, içgüdüleriyle hareket eden canlı yaratık.

■ Sınırları idari, ekonomik birliğe, toprak, iklim ve bitki özelliklerinin benzerliğine veya üzerinde yaşayan insanların aynı soydan gelmiş olmalarına göre belirlenen toprak parçası.

● İlk olarak, başlangıçta, sonra karşıtı.

♥ Çoktan beri var olan, üzerinden çok zaman geçmiş bulunan, yeni karşıtı.



**Numaralanmış kutularda yer alan harfler “anahtar kelime” bölümüne yerleştirildiğinde aşağıdakilerden hangisi ortaya çıkar?**

A) S A H A N

B) S I N A V

C) T A V A N

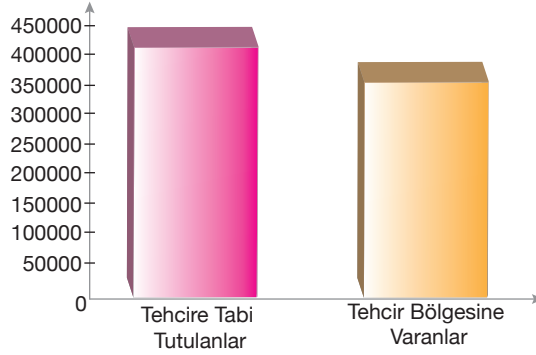
D) S E L A M



## LGS / T.C. İNKILAP TARİHİ VE ATATÜRKÇÜLÜK

1. Bu testte 10 soru vardır.
2. Cevaplarınızı, cevap kâğıdının T.C. İnkılap Tarihi ve Atatürkçülük Testi için ayrılan kısmına işaretleyiniz.

1. Aşağıda Tehcir Kanunu'nun uygulanışı ile ilgili bir grafiğe yer verilmiştir.



Buna göre,

- I. Yarım milyona yakın Ermeni tehciire tabi tutulmuştur.
- II. Tehcir edilen Ermenilerin önemli bir kısmı tehcir bölgesine ulaşmıştır.
- III. Tehcir bölgesine ulaşamayan Ermenilerin, ulaşamama nedeni yolda karşılaştıkları güçlüklerdir.

çıkarmılarından hangilerine ulaşılabilir?

- A) Yalnız I.                      B) I ve II.                      C) I ve III.                      D) II ve III.

- 2.

"Çocukluğuma dair ilk hatırladığım şey, mektebe gitmek meselesine aittir. Bundan dolayı annem ve babam arasında şiddetli bir mücadele vardı. Annem, ilahilerle mektebe başlamamı ve mahalle mektebine gitmemi istiyordu. Gümrükte memur olan babam, o zaman yeni açılan Şemsi Efendi'nin mektebine devam etmeme ve yeni usul üzerine okumama taraftardı. Nihayet babam işi mahirane surette halletti: Evvela geleneklere göre bir merasim ile mahalle mektebine başladım. Bu suretle annemin gönlü yapılmış oldu. Birkaç gün sonra da mahalle mektebinden çıktım. Şemsi Efendi Mektebine kaydedildim. Az zaman sonra babam vefat etti."

*Mehmet Işık, Her Yönüyle Atatürk, s. 23 (Düzenlenmiştir.)*

Sadece bu bilgilere göre, aşağıdaki yargılarından hangisine ulaşamaz?

- A) Mustafa Kemal'in gideceği okul ile ilgili anne ve babası arasında fikir ayrılığı vardır.
- B) Şemsi Efendi Mektebi modern eğitim vermektedir.
- C) Mustafa Kemal'in mahalle mektebindeki eğitimi kısa süreli olmuştur.
- D) Mustafa Kemal ilkokul eğitiminden sonra eğitimine Selanik Askeri Rüstiyesinde devam etmiştir.

3. Aşağıda Erzurum Kongresi'nde alınan kararlardan bazıları verilmiştir.

- Millî sınırlar içinde vatan bir bütündür, bölünemez.
  - Yabancı işgal ve müdahalesine karşı Osmanlı Hükûmeti vazifesini yapamaz hâle gelirse millet topyekûn direnişe geçecek ve kendini savunacaktır.
  - Osmanlı Hükûmeti vatani koruyamaz ve istiklali sağlayamazsa geçici bir hükûmet kurulacaktır.
  - Kuvâ-yı Millîye'yi tek kuvvet olarak tanımak ve millî iradeyi hâkim kılmak esastır.
  - Hristiyan azınlıklara siyasi hâkimiyetimizi ve sosyal dengemizi bozacak ayrıcalıklar verilemez.
  - Manda ve himaye kabul edilemez.
- Mebusan Meclisinin hemen toplanması ve hükûmet işlerinin Meclis tarafından kontrol edilmesi gereklidir.

**Buna göre;**

- Tam bağımsızlık düşüncesi vurgulanmıştır.
- Halk egemenliğini etkin kılmak için adım atılmıştır.
- Erzurum Kongresi ile azınlıklara verilen ayrıcalıklara tepki konmuştur.
- İstanbul Hükûmetinin görevini yapmadığını düşünülmektedir.

**çıkarımlarından kaç tanesi doğrudur?**

A) 1

B) 2

C) 3

D) 4

4.

#### Misakımillî Kararları

• Mondros Ateşkesi'nin imzaladığı sırada işgal edilmemiş ve Türklerin çoğunlukta olduğu yerler bölünmez.

• Millî ve ekonomik gelişmemizi mümkün kılmak amacıyla siyasi, adli, mali gelişmemiz o engel olan kapitülasyonlar kaldırılmalıdır.

• Azınlıkların hakları civar ülkelerdeki Müslüman halkın da aynı haklardan yararlanmaları şartı ile garanti edilecektir.

• Batı Trakya, Kars, Ardahan ve Batum'dan gerekirse halk oylaması yapılacaktır.

• Arap milletinin yaşadığı topraklarının geleceği bölge halkının vereceği kararlara bağlıdır.

• İstanbul ve Marmara Denizi'nin güvenliği sağlandığı takdirde boğazlar dünya ticaretine ve ulaşımına açılacaktır.

**Yukarıda verilen diyagramdan;**

- I. Kapitülasyonların kaldırılması gündeme gelmiştir.
- II. Bölge halkının çoğunluğunun Türk olması nedeniyle Kars, Ardahan ve Batum'dan referandum kararı alınmıştır.
- III. Uluslararası alanda eşitlik ilkesi gözetilmemiştir.

**çıkarımlarından hangilerine ulaşılabilir?**

A) Yalnız I.

B) I ve II.

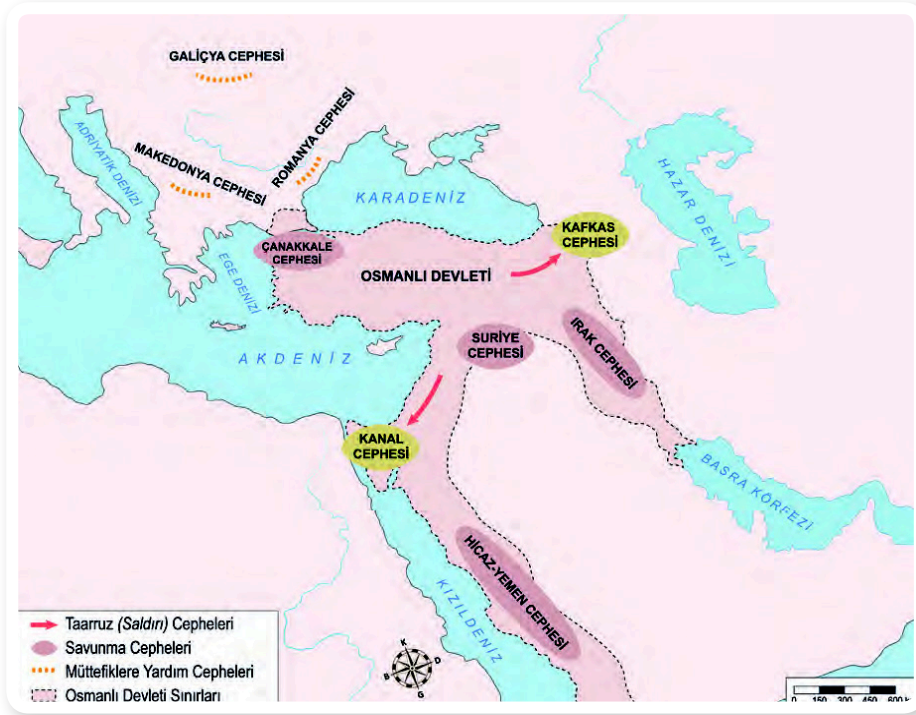
C) II ve III.

D) I, II ve III.





9.



Verilen haritadan hareketle ulaşılabilecek en genel yargı aşağıdakilerden hangisidir?

- A) Osmanlı Devleti çok geniş bir alanda mücadele etmek zorunda kalmıştır.
- B) Osmanlıların en çok savaştığı devlet İngiltere'dir.
- C) Osmanlı savaştığı tüm cephelerde mağlup olmuştur.
- D) Osmanlı Devleti sınırları dışında da mücadele etmiştir.

10. Aşağıda Osmanlı Devleti'nde etkili olan fikir akımlarına ait açıklamalar verilmiştir.

**Osmanlıcılık** : Dil, din ve ırk ayırımı yapılmaksızın tüm milletleri kapsayıcı bir yaklaşımı benimseyen akımdır. Tanzimat ve Islahat Fermanı ile Kanun-i Esasi'nin ilanı bu fikir akımının etkisiyle olmuştur.

**İslamcılık** : Müslüman milletleri Osmanlı Halifesi etrafında birleştirmeyi amaçlamıştır.

**Batıcılık** : Bu akım, Batı'daki bilimsel gelişmelerin takip edilmesini ve bu gelişmelerle devletin modernleştirilmesini benimsemiştir.

**Türkçülük** : Fransız İhtilali'nin getirdiği milliyetçilik fikrinin etkisiyle hareket eden bazı aydınlar, bu akım ile Türk toplumlarının birlik ve beraberlik içerisinde olmasını savunmuştur.

**Buna göre;**

- Fikir akımlarının tamamı devletin devamlılığı adına çözüm önerileri sunmaktadır.
- Osmanlıcılık en kapsayıcı fikir akımıdır.
- Türkçülük Türk birliğini oluşturmaya çalışmaktadır.
- Tüm akımlar günümüzde de geçerliliğini korumaktadır.

değerlendirmelerinden kaç tanesi doğrudur?

- A) 1
- B) 2
- C) 3
- D) 4



## DİN KÜLTÜRÜ VE AHLAK BİLGİSİ

4. • “İnsan ancak kendi çalışmasının karşılığını elde edebilir. Onun çalışması ileride kesinlikle gözler önüne serilecektir. Sonra çalışmasının karşılığı kendisine eksiksiz olarak verilecektir.” (*Necm suresi, 39-41. ayetler*)
- “Allah, gökleri ve yeri yerli yerince yaratmıştır. Böylece herkes kazancına göre karşılık görür. Onlara haksızlık edilmez.” (*Câsiye suresi, 22. ayet*)

**Bu ayetlerde aşağıda verilen kavramlardan hangisi vurgulanmıştır?**

- A) Tevekkül                      B) Özgürlük                      C) İrade                      D) Rızık

5. Akrabalar arası ilişkiler, aynı zamanda sosyal yardımlaşmayı da gerektirdiği için zekât verilirken yakınlar tercih edilir. İyilik yapma konusunda öncelikli kimseler, anne, baba ve kardeşler şeklinde sıralanır. Genel olarak yardım elini uzatmada bu sıra gözetilirse de kişi bakmakla yükümlü olduğu kimselere yani anne, baba, dede, nine, çocuk ve torun gibi yakınlarına zekâtını veremez. Çünkü zekât veren kimsenin, verdiği zekâttan hiçbir şekilde maddî menfaat sağlamaması gerekir. Hâlbuki muhtaç durumda olan yakınlarına zekât vermek, malın aile içinde dolaşmasını sağlamak anlamına gelecektir. Yani zekât olarak verilen mal fakirin eline geçmemiş olacaktır.

**Bu metinden hareketle zekât ile ilgili olarak aşağıdakilerden hangisine ulaşamaz?**

- A) İnsanlar arasındaki kardeşlik ve sevgi bağlarını güçlendirir.
- B) Paylaşma ve yardımlaşma duygusunu güçlendirmeyi amaçlar.
- C) Sadece anne ve babaya verilir.
- D) İyilik ve hayırseverlik gibi güzel huyları geliştirir.

6. “Ey iman edenler! Kazandıklarınızın iyilerinden ve yerden sizin için çıkardıklarımızdan Allah yolunda harcayın. Kendinizin göz yummadan alıcısı olmayacağınız bayağı şeyleri vermeye kalkışmayın ve bilin ki Allah her bakımdan zengindir, övülmeye layıktır.” (*Bakara suresi, 267. ayet*)

**Bu ayetin konusu aşağıdakilerden hangisidir?**

- A) Zekâtın sadece Allah rızası için verileceği
- B) Zekât verirken gösterişten uzak olunması gerektiği
- C) Zekât verirken nelere dikkat edilmesi gerektiği
- D) Zekat verecek kişinin belli bir zenginliğe ulaşması gerektiği



